

В какой части Балканского полуострова находилось Афинское государство?




Почему же город назвали именно так – Афины?



Почему же город назвали Афинами?

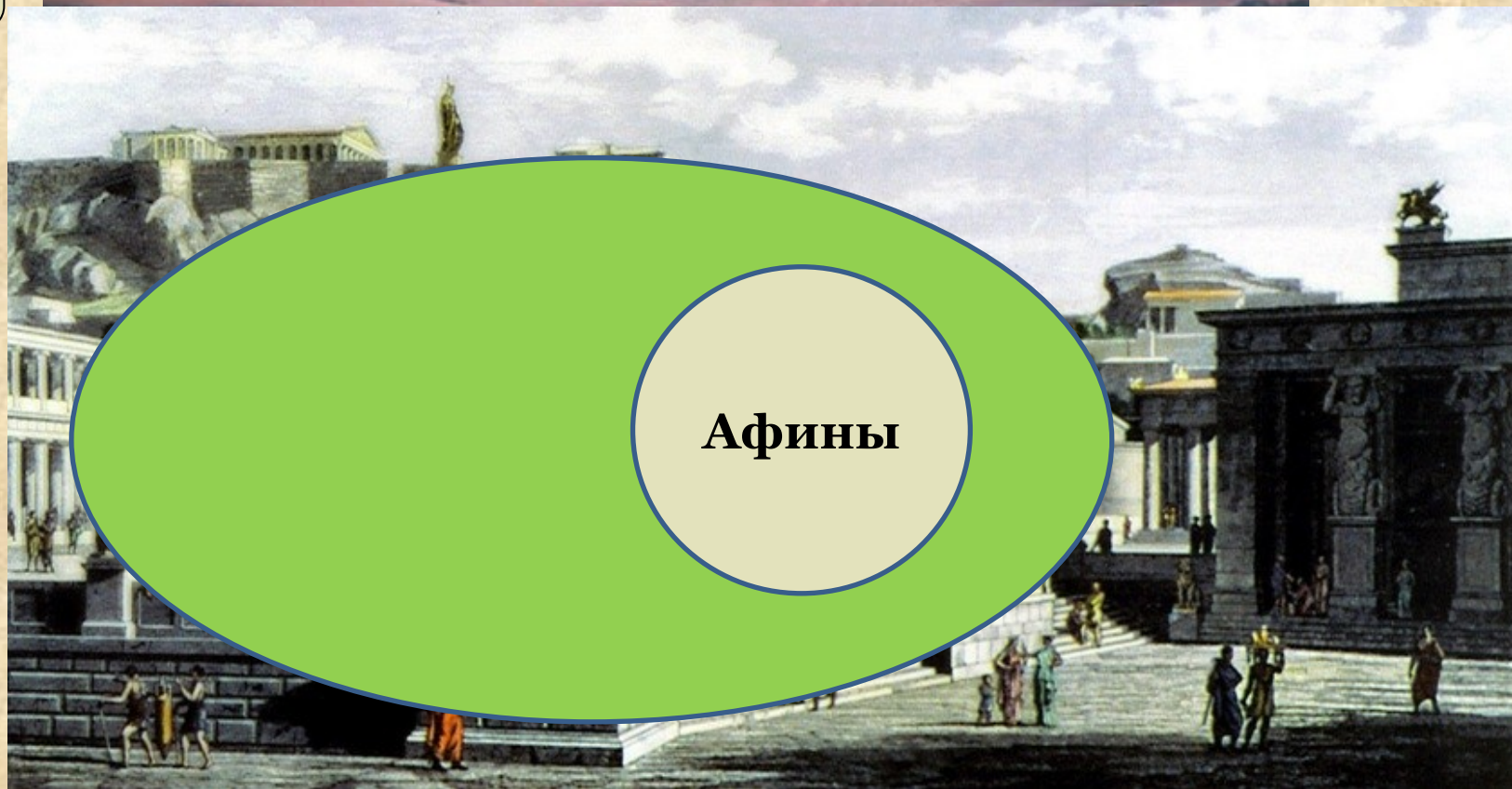


Кто жил в Древних Афинах?



Древние Афины.
Современный рисунок.

Афины – крупнейший древнегреческий полис



Пашни, виноградники,
оливковые рощи.

Полис

Это город-государство с окружающими его хлебными полями, виноградниками и оливковыми рощами.



Занятия древних греков



Рисунок на вазе.

Этот человек – кузнец.

Занятия древних греков




Рисунок на вазе.

Этот ремесленник шьет обувь.

Как вы думаете, почему разведение оливок было выгоднее выращивания пшеницы?



Сбор оливок.
Рисунок на вазе



Разведение оливок.

**Пашни,
виноградники,
оливковые рощи.**

Афины

Управление Афинами в VII в. до н.э.

Прочитайте пункт 3 стр. 141,
устно составьте схему
управления Афинами и
выпишите новые для себя
слова.

Управление Афинами в VII в. до н.э.

Демос – простой народ.

Ареопаг – совет знати.

Архонты – 9 правителей,
избираемых ареопагом.